

Naam: _____

Zoek de pagina in het lesboek.
Lees de tekst en bekijk de foto of tekening.
Maak dan de vraag.

pagina 2 en 3



1 Zet in de goede volgorde. Van klein naar groot.

werelddeel

wereld

woonplaats


provincie

land

_____ **1** _____



pagina 7 en 8



2 Trek lijnen.



herkennen

Goed kijken!



waarderen

Waarom ziet het er zo uit?



waarnemen

Vind ik het mooi?

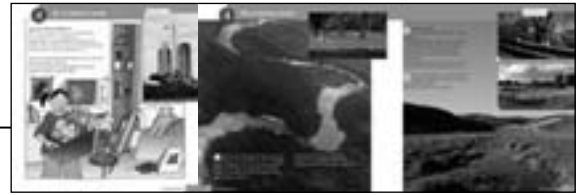


verklaren

Wat is hetzelfde?

Naam: _____

pagina 9, 10 en 11



3 Vul in.

Als je in een nieuw huis gaat wonen, moet je je kamer opnieuw
i _____.

Als je in een n _____ gaat wonen,
moet die wijk nog worden ingericht.

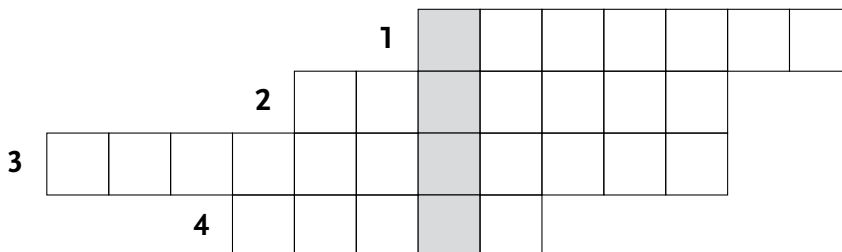
Het oerwoud in Suriname is niet door mensen gemaakt, maar de
p _____ in Nederland wel.



pagina 12 en 13



4



- 1 Zo noem je de gekleurde hokjes onder de kaart.
- 2 Als je een kaart maakt, wordt alles ...
- 3 Een kaart van een stad noem je een ...
- 4 Omdat ze bewegen, teken je ... niet op een kaart.

Oplossing: Sofie en Tom bouwen een stad van _____.

Naam: _____

Zoek de pagina in het lesboek.
Lees de tekst en bekijk de foto of tekening.
Maak dan de vraag.

pagina 14 en 15



1

Vul in.
Kies uit: *afkomst, eetgewoonten, godsdienst.*

Wierook branden hoort bij Indra's _____.

Indra's oma komt uit Suriname. Indra is van _____ Surinaams.

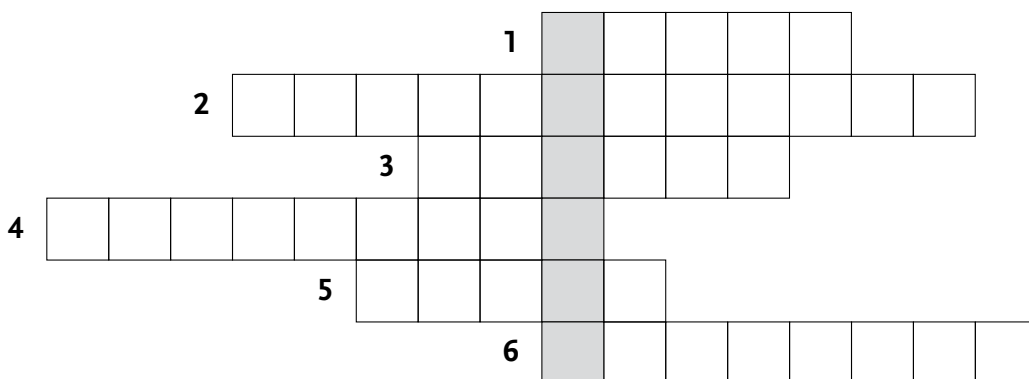
Bij Mai thuis hoort rijst eten tot de _____.



pagina 16 en 17



2



- 1 Rijke mensen wonen vaak in een ...
- 2 In arme landen vind je soms grote ...
- 3 In grote steden staan flats, want er is weinig ... om te wonen.
- 4 Houten huizen vind je vaak dicht bij de ...
- 5 In warme landen zijn de ramen meestal ...
- 6 Bij een indianenstam wonen in één ruimte wel twintig ...

Naam: _____

pagina 18 en 19**3**

Vul in.

Kies uit: *asiel, asielzoeker, hulporganisaties, oorlog, vluchteling, vluchtelingenkamp.*

Vroeger woonde Abdu in Somalië.

Toen er _____ kwam, is hij naar Nederland gevlucht.

Hij vroeg of hij hier mocht komen wonen. _____ aanvragen heet dat.

_____ hopen op een beter leven in Nederland.

De meeste _____ gaan naar een buurland.

Daar komen ze in een _____ terecht.

_____ proberen vluchtelingen te helpen.

*pagina 20 en 21***4**

Kleur de woorden die bij het christendom horen rood.

Kleur de woorden die bij de islam horen blauw.

Kleur de woorden die bij het jodendom horen geel.

Kleur de woorden die bij het boeddhisme horen groen.

Kleur de woorden die bij het hindoeïsme horen roze.

*geen alcohol Jezus kerk synagoge veel goden tempel tempel**Bijbel moskee Boeddha geen varkensvlees geen varkensvlees*

Naam: _____

pagina 22 en 23



5

Vul in.

Kies uit: *groter, legenda, luchtfoto's, minder, wegenkaart.*

Kaarten worden gemaakt met _____.

Hoe hoger je vliegt, hoe _____ je ziet.

Hoe hoger je vliegt, hoe _____ het gebied is dat je ziet.

Als je met de auto ergens naartoe gaat, is een _____

handig.

Het hokje met uitleg over de tekens op de kaart, heet de _____.



Naam: _____

Zoek de pagina in het lesboek.
Lees de tekst en bekijk de foto of tekening.
Maak dan de vraag.

pagina 24 en 25



1 Vul in.

Wanneer je later gaat werken, kies je een _____.

Je kunt beroepen in drie _____ indelen.

Beroepsgroep 1 zijn _____

Beroepsgroep 2 zijn _____

Beroepsgroep 3 zijn _____



2 Kleur de beroepen uit groep 1 rood.
Kleur de beroepen uit groep 2 blauw.
Kleur de beroepen uit groep 3 geel.

boer houthakker iemand in een fabriek metselaar meubelmaker

politieagent verpleger visser vuilnisman

Naam: _____

5 Niet overal op de wereld zijn er fabrieken met grote _____.

6 In veel _____ in India doen mensen het meeste werk zelf.

pagina 30 en 31

5 Wat is waar?



- Mensen die mooie dingen maken in een stad, provincie of land werken voor de overheid.
- Mensen die dingen regelen in een stad, provincie of land werken voor de overheid.
- Een burgemeester is een ambtenaar.
- Een burgemeester is geen ambtenaar.
- Een stadhuis is ongeveer hetzelfde als een gemeentehuis.
- Een stadhuis is ongeveer hetzelfde als een ministerie.
- Veel ministeries staan in Amsterdam.
- Veel ministeries staan in Den Haag.



pagina 32 en 33

6 Vul in.
Kies uit: *cijfer, kaartvakken, letter, register, symbool.*



Een kleine tekening op een kaart noem je een _____.

Het _____ is de lijst met plaatsen die je op een kaart kunt vinden.


Kaarten zijn vaak verdeeld in _____.

Ieder vak heeft een _____ en een _____.

Naam: _____

Zoek de pagina in het lesboek.
Lees de tekst en bekijk de foto of tekening.
Maak dan de vraag.

pagina 35 en 36



1 Vul in.

Op de aarde is meer water dan _____.

Tussen de werelddelen liggen _____.

Het water van zeeën en oceanen is _____.

Het water van meren en rivieren noemen we _____.



2 Zet in de goede volgorde.

_____ Dat water stroomt weer door de rivieren naar zee.

_____ Er ontstaan wolken.

1 _____ Het water uit de zee verdampt.

_____ Uit de wolken valt regen.

Naam: _____

pagina 37 en 38**3**

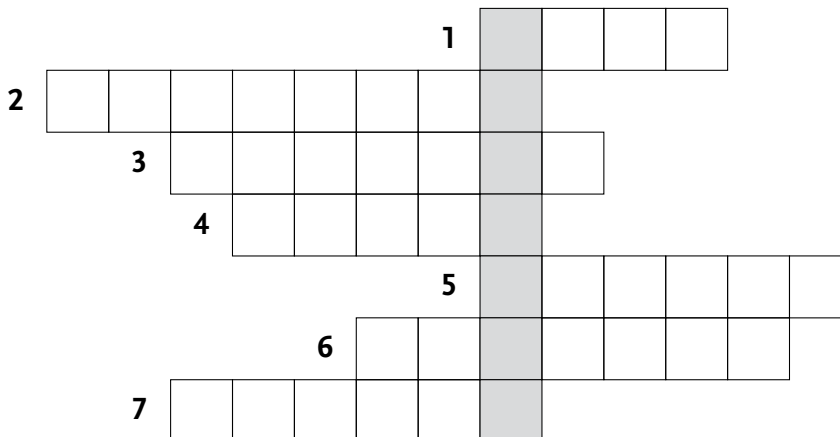
Wat is waar?

- Stenen worden in rivieren scherp en hoekig.
- Stenen worden in rivieren glad en rond.

- Kleine stenen noemen we grind.
- Kleine stenen noemen we grit.

- Als de rivier hard stroomt, zakken zand en klei naar de bodem.
- Als de rivier langzaam stroomt, zakken zand en klei naar de bodem.


- Bij de monding van een rivier vind je vaak grote stenen.
- Bij de monding van een rivier vind je vaak een strand.

pagina 40 en 41**4**

- 1 In sommige gebieden groeien naaldbomen. Voor loofbomen is het daar te ...
- 2 Op de noordpool en ... ligt het hele jaar ijs.
- 3 Het tropisch regenwoud is warm en ...
- 4 De ... van veel woestijnen bestaat uit rotsen.
- 5 Op steile hellingen is het moeilijk ... aan te leggen.
- 6 In de woestijn groeien bijna geen ...
- 7 Loofbomen verliezen in de ... hun bladeren.

Oplossing: Het weer over een lange periode noem je het _____

Naam: _____

pagina 42 en 43


- 5** Kijk naar de kaart en de legenda. Vul in.
Kies uit: *bebouwing, bos, duinen, heide, tuinbouw.*

Precies langs de kust liggen _____.

In de Randstad is veel _____.

Tussen Arnhem en Apeldoorn kun je wandelen in het _____ of over de _____.

Onder Den Haag en Zoetermeer is veel _____.

*pagina 44 en 45*

- 6** Vul in.
Kies uit: *kompas, weerkaart, windzak.*

Om te weten of het gaat regenen, kijk je op de _____.

Om te kijken waar de wind vandaan komt, gebruik je een _____.

Om te zien of je de goede kant op loopt, gebruik je een _____.



Naam: _____

Zoek de pagina in het lesboek.
Lees de tekst en bekijk de foto of tekening.
Maak dan de vraag.

pagina 46 en 47



1 Waar hoort elk vervoermiddel? Trek lijnen.

auto	fietspad
trein	rivier
schip	lucht
vliegtuig	spoorweg
fiets	snelweg



pagina 48



2 Vul in.
Kies uit: *afstand, kilometers, reistijd.*

Femke, Necip en Rob doen er 5 minuten over om op school te komen.

Hun _____ is gelijk.

Toch wonen ze niet allemaal even dicht bij school.

De _____ naar school is niet gelijk.

Rob woont het verste van school af.

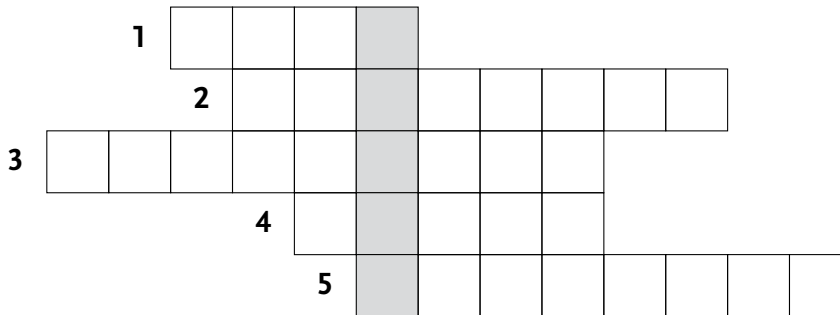
Met de auto is het wel een paar _____ naar school.

Naam: _____

pagina 50 en 51



3



- 1 Een ... rijdt vaak in grote steden, alleen boven de grond.
- 2 Hiermee kun je naar een eiland varen.
- 3 Dit vervoermiddel rijdt bijvoorbeeld in India.
- 4 Hiermee rijd je van station naar station door het hele land.
- 5 Vervoer dat iedereen kan gebruiken noem je ...

Oplossing: In grote steden kun je ondergronds rijden met de _____.



pagina 52 en 53



4

Vul in.
Kies uit: *auto, gebieden, geld, toerist, vliegtuig.*

Als je op vakantie gaat, ben je een _____.

Overal op de wereld zijn mooie _____ waar veel toeristen komen.

Vroeger gingen mensen niet vaak op vakantie. Ze hadden niet genoeg _____.

De meeste mensen hadden ook geen _____.

Alleen rijke mensen gingen met het _____ op reis.

Naam: _____

pagina 54

**5**

Wat is waar?

- Om te zien hoe ver je moet rijden, kijk je naar de liniaal op de kaart.
- Om te zien hoe ver je moet rijden, kijk je naar het afstandslijntje op de kaart.
- Met een liniaal meet je de afstand tussen twee plaatsen op de kaart.
- Met een afstandslijntje meet je de afstand tussen twee plaatsen op de kaart.
- Die afstand doe je maal het getal boven het afstandslijntje.
- Die afstand doe je maal het getal onder het afstandslijntje.
- Het afstandslijntje op deze kaart betekent: 1 cm op de kaart is 5 km in het echt.
- Het afstandslijntje op deze kaart betekent: 5 km op de kaart is 1 cm in het echt.

