

Naam: _____

Zoek de pagina in het lesboek.
Lees de tekst en bekijk de foto of tekening.
Maak dan de vraag.

pagina 2 en 3




1 Zet in de goede volgorde. Van klein naar groot.

werelddeel	wereld	woonplaats	provincie	land
<u> 4 </u>	<u> 5 </u>	<u> 1 </u>	<u> 2 </u>	<u> 3 </u>



pagina 7 en 8

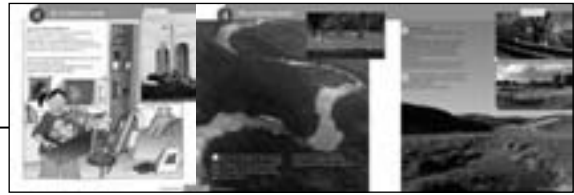


2 Trek lijnen.

	herkennen	Goed kijken!
	waarderen	Waarom ziet het er zo uit?
	waarnemen	Vind ik het mooi?
	verklaren	Wat is hetzelfde?

Naam: _____

pagina 9, 10 en 11



3 Vul in.

Als je in een nieuw huis gaat wonen, moet je je kamer opnieuw

inrichten _____.

Als je in een *nieuwbouwwijk* _____ gaat wonen,

moet die wijk nog worden ingericht.

Het oerwoud in Suriname is niet door mensen gemaakt, maar de

parken _____ in Nederland wel.



pagina 12 en 13



4

					1	L	e	g	e	n	d	a
				2	k	l	E	i	n	e	r	
3	p	l	a	t	t	e	G	r	o	n	d	
			4	a	u	t	O	's				

- 1 Zo noem je de gekleurde hokjes onder de kaart.
- 2 Als je een kaart maakt, wordt alles ...
- 3 Een kaart van een stad noem je een ...
- 4 Omdat ze bewegen, teken je ... niet op een kaart.

Oplossing: Sofie en Tom bouwen een stad van *lego* _____.

Naam: _____

Zoek de pagina in het lesboek.
Lees de tekst en bekijk de foto of tekening.
Maak dan de vraag.

pagina 14 en 15



1

Vul in.
Kies uit: *afkomst, eetgewoonten, godsdienst.*

Wierook branden hoort bij Indra's *godsdienst*.

Indra's oma komt uit Suriname. Indra is van *afkomst* Surinaams.

Bij Mai thuis hoort rijst eten tot de *eetgewoonten*.



pagina 16 en 17



2

								1	V	i	l	l	a			
		2	k	r	o	t	t		E	n	w	j	k	e	n	
					3	r	u		I	m	t	e				
4	n	o	o	r	d	p	o		L							
					5	k	l		e	l	n					
								6	G	e	z	i	n	n	e	n

- 1 Rijke mensen wonen vaak in een ...
- 2 In arme landen vind je soms grote ...
- 3 In grote steden staan flats, want er is weinig ... om te wonen.
- 4 Houten huizen vind je vaak dicht bij de ...
- 5 In warme landen zijn de ramen meestal ...
- 6 Bij een indianenstam wonen in één ruimte wel twintig ...

Naam: _____

pagina 18 en 19

**3**

Vul in.

Kies uit: *asiel*, *asielzoeker*, *hulporganisaties*, *oorlog*, *vluchteling*, *vluchtelingenkamp*.

Vroeger woonde Abdu in Somalië.

Toen er *oorlog* _____ kwam, is hij naar Nederland gevlucht.Hij vroeg of hij hier mocht komen wonen. *Asiel* _____ aanvragen heet dat.*Asielzoekers* _____ hopen op een beter leven in Nederland.De meeste *vluchtelingen* _____ gaan naar een buurland.Daar komen ze in een *vluchtelingenkamp* _____ terecht.*Hulporganisaties* _____ proberen vluchtelingen te helpen.

pagina 20 en 21

**4**

Kleur de woorden die bij het christendom horen rood.

Kleur de woorden die bij de islam horen blauw.

Kleur de woorden die bij het jodendom horen geel.

Kleur de woorden die bij het boeddhisme horen groen.

Kleur de woorden die bij het hindoeïsme horen roze.



Naam: _____

pagina 22 en 23



5

Vul in.

Kies uit: *groter, legenda, luchtfoto's, minder, wegenkaart*.

Kaarten worden gemaakt met *luchtfoto's* _____.

Hoe hoger je vliegt, hoe *minder* _____ je ziet.

Hoe hoger je vliegt, hoe *groter* _____ het gebied is dat je ziet.

Als je met de auto ergens naartoe gaat, is een *wegenkaart* _____ handig.

Het hokje met uitleg over de tekens op de kaart, heet de *legenda* _____.



Naam: _____

Zoek de pagina in het lesboek.
Lees de tekst en bekijk de foto of tekening.
Maak dan de vraag.

pagina 24 en 25

1 Vul in.



Wanneer je later gaat werken, kies je een *beroep* _____.

Je kunt beroepen in drie *groepen* _____ indelen.

Beroepsgroep 1 zijn *mensen die werken met iets wat uit de natuur komt* _____

Beroepsgroep 2 zijn *mensen die iets maken* _____.

Beroepsgroep 3 zijn *mensen die iemand verzorgen, iemand helpen of iets voor iemand doen* _____.



2 Kleur de beroepen uit groep 1 rood.
Kleur de beroepen uit groep 2 blauw.
Kleur de beroepen uit groep 3 geel.



Naam: _____

pagina 26 en 27



1	p	r	o	d	u	c	T	e	n								
2	v	e	e	h	o	U	d	e	r								
			3	w	e	I	l	a	n	d							
			4	t	a	N	k	w	a	g	e	n					
	5	a	a	r	D	a	p	p	e	l	e	n					
	6	a	k	k	E	r	b	o	u	w	b	e	d	r	i	j	f
		7	s	p	R	o	e	i	e	n							

3

- 1 Katoen en thee zijn ... die in alleen in warme landen groeien.
- 2 Jan heeft een melkveebedrijf. Hij is ...
- 3 In de zomer lopen zijn koeien in het ...
- 4 Een ... brengt de melk naar de fabriek.
- 5 Gerard verbouwt graan en ...
- 6 Gerard heeft een ...
- 7 Als het lange tijd niet regent, moet hij het land ...

Oplossing: Henk heeft kassen met tomaten. Hij is *tuinder*.

pagina 28 en 29



4

Vul in.

Kies uit: *industrieterrein*, *kledingfabrieken*, *lawaai*, *machines*, *rand*, *stank*, *zuivelfabrieken*.

- 1 De fietsenfabriek staat op een *industrieterrein*.
- 2 Dat ligt meestal aan de *rand* van de stad.
- 3 Daar hebben maar weinig mensen last van *lawaai* of *stank*.
- 4 In *zuivelfabrieken* worden van melk bijvoorbeeld yoghurt en vla gemaakt.

Naam: _____

- 5 Niet overal op de wereld zijn er fabrieken met grote *machines*_____.
- 6 In veel *kledingfabrieken*_____ in India doen mensen het meeste werk zelf.

pagina 30 en 31



5 Wat is waar?

- Mensen die mooie dingen maken in een stad, provincie of land werken voor de overheid.
- Mensen die dingen regelen in een stad, provincie of land werken voor de overheid.
- Een burgemeester is een ambtenaar.
- Een burgemeester is geen ambtenaar.
- Een stadhuis is ongeveer hetzelfde als een gemeentehuis.
- Een stadhuis is ongeveer hetzelfde als een ministerie.
- Veel ministeries staan in Amsterdam.
- Veel ministeries staan in Den Haag.



pagina 32 en 33

6 Vul in.

Kies uit: *cijfer, kaartvakken, letter, register, symbool*.



Een kleine tekening op een kaart noem je een *symbool*_____.

Het *register*_____ is de lijst met plaatsen die je op een kaart kunt vinden.


Kaarten zijn vaak verdeeld in *kaartvakken*_____.

Ieder vak heeft een *letter*_____ en een *cijfer*_____.

Naam: _____

Zoek de pagina in het lesboek.
Lees de tekst en bekijk de foto of tekening.
Maak dan de vraag.

pagina 35 en 36



1 Vul in.

Op de aarde is meer water dan *land*.

Tussen de werelddelen liggen *oceanen*.

Het water van zeeën en oceanen is *zout*.

Het water van meren en rivieren noemen we *zoet water*.



2 Zet in de goede volgorde.

4 ___ Dat water stroomt weer door de rivieren naar zee.

2 ___ Er ontstaan wolken.

1 ___ Het water uit de zee verdampt.

3 ___ Uit de wolken valt regen.

Naam: _____

pagina 42 en 43**5**

Kijk naar de kaart en de legenda. Vul in.
Kies uit: *bebouwing, bos, duinen, heide, tuinbouw*.

Precies langs de kust liggen *duinen*.

In de Randstad is veel *bebouwing*.

Tussen Arnhem en Apeldoorn kun je wandelen in het *bos* of over de *heide*.

Onder Den Haag en Zoetermeer is veel *tuinbouw*.

*pagina 44 en 45***6**

Vul in.
Kies uit: *kompas, weerkaart, windzak*.

Om te weten of het gaat regenen, kijk je op de *weerkaart*.

Om te kijken waar de wind vandaan komt, gebruik je een *windzak*.

Om te zien of je de goede kant op loopt, gebruik je een *kompas*.



Naam: _____

Zoek de pagina in het lesboek.
Lees de tekst en bekijk de foto of tekening.
Maak dan de vraag.

pagina 46 en 47



1 Waar hoort elk vervoermiddel? Trek lijnen.

auto	fietspad
trein	rivier
schip	lucht
vliegtuig	spoorweg
fiets	snelweg



pagina 48



2 Vul in.
Kies uit: *afstand*, *kilometers*, *reistijd*.

Femke, Necip en Rob doen er 5 minuten over om op school te komen.

Hun *reistijd* _____ is gelijk.

Toch wonen ze niet allemaal even dicht bij school.

De *afstand* _____ naar school is niet gelijk.

Rob woont het verste van school af.

Met de auto is het wel een paar *kilometers* _____ naar school.

Naam: _____

pagina 50 en 51

**3**

1	t	r	a	M							
	2	v	e	E	r	b	o	o	t		
3	f	i	e	t	s	T	a	x	i		
		4	t	R	e	i	n				
			5	O	p	e	n	b	a	a	r

- 1 Een ... rijdt vaak in grote steden, alleen boven de grond.
- 2 Hiermee kun je naar een eiland varen.
- 3 Dit vervoermiddel rijdt bijvoorbeeld in India.
- 4 Hiermee rijd je van station naar station door het hele land.
- 5 Vervoer dat iedereen kan gebruiken noem je ...

Oplossing: In grote steden kun je ondergronds rijden met de *metro* _____.

pagina 52 en 53

**4**

Vul in.

Kies uit: *auto, gebieden, geld, toerist, vliegtuig.*Als je op vakantie gaat, ben je een *toerist* _____.Overal op de wereld zijn mooie *gebieden* _____ waar veel toeristen komen.Vroeger gingen mensen niet vaak op vakantie. Ze hadden niet genoeg *geld* _____.De meeste mensen hadden ook geen *auto* _____.Alleen rijke mensen gingen met het *vliegtuig* _____ op reis.

Naam: _____

pagina 54

**5**

Wat is waar?

- Om te zien hoe ver je moet rijden, kijk je naar de liniaal op de kaart.
- Om te zien hoe ver je moet rijden, kijk je naar het afstandslijntje op de kaart.

- Met een liniaal meet je de afstand tussen twee plaatsen op de kaart.
- Met een afstandslijntje meet je de afstand tussen twee plaatsen op de kaart.

- Die afstand doe je maal het getal boven het afstandslijntje.
- Die afstand doe je maal het getal onder het afstandslijntje.

- Het afstandslijntje op deze kaart betekent: 1 cm op de kaart is 5 km in het echt.
- Het afstandslijntje op deze kaart betekent: 5 km op de kaart is 1 cm in het echt.

