

Rekentijger - Groep 3

Tips bij werkboekje A

sudoku	Tip!
werkblad 1	

pijlen gooien	Tip!																								
werkblad 2																									
bij de vraag: hoe gooit milan?	<table border="1"> <thead> <tr> <th>pijl 1</th> <th>pijl 2</th> <th>pijl 3</th> <th>samen</th> </tr> </thead> <tbody> <tr> <td>5</td> <td>5</td> <td>0</td> <td>10</td> </tr> <tr> <td>5</td> <td></td> <td></td> <td>10</td> </tr> <tr> <td></td> <td></td> <td></td> <td>10</td> </tr> <tr> <td></td> <td></td> <td></td> <td>10</td> </tr> <tr> <td></td> <td></td> <td></td> <td>10</td> </tr> </tbody> </table>	pijl 1	pijl 2	pijl 3	samen	5	5	0	10	5			10				10				10				10
pijl 1	pijl 2	pijl 3	samen																						
5	5	0	10																						
5			10																						
			10																						
			10																						
			10																						

muurtjes bouwen	Tip!
werkblad 3	
bij de opdracht: maak nu zelf.	<p>begin bovenaan.</p>

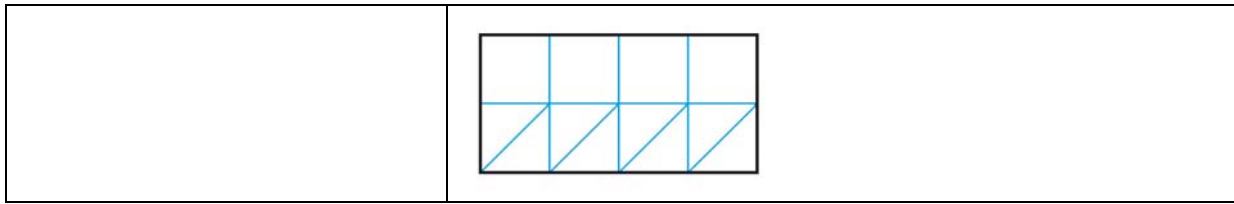
maak een kruistabel	Tip!
werkblad 4	
bij de eerste opdracht.	

domino	Tip!
werkblad 5	
bij de eerste opdracht.	

tegelvloeren	Tip!
werkblad 6	
	<p>hoe betaal jij?</p> <p> </p> <p> </p>

machientjes	Tip!
werkblad 7	

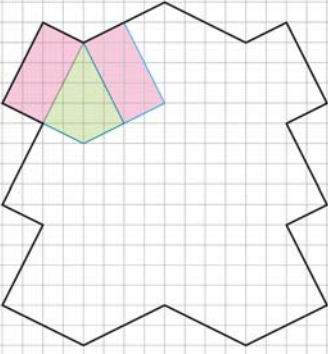
tangrammen met tegels	Tip!
werkblad 8	
	zo doe je dat!




hoeveel kosten ze?	Tip!															
werkblad 9																
bij de vraag: hoeveel kost het samen?	<p>begin met de twee stukken taart.</p> <table border="1"> <tr> <td></td> <td></td> <td>5</td> <td></td> <td>= 3 euro</td> </tr> <tr> <td></td> <td></td> <td>4</td> <td></td> <td>= 2 euro</td> </tr> <tr> <td>3</td> <td>6</td> <td>9</td> <td></td> <td>= 1 euro</td> </tr> </table>			5		= 3 euro			4		= 2 euro	3	6	9		= 1 euro
		5		= 3 euro												
		4		= 2 euro												
3	6	9		= 1 euro												

reeksen	Tip!
werkblad 10	
	<p>wat gebeurt er?</p>

mozaïeken	Tip!
werkblad 11	
bij het plaatje met ruiten.	
mozaïeken	Tip!
werkblad 12	

bij het plaatje met vierkanten en ruiten.	
---	--

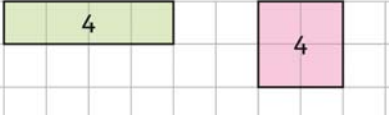
wat is het midden?	Tip!
werkblad 13	
	

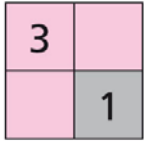
de weg vinden	Tip!
werkblad 14	
	loop mee met eva en levi.

wat zien ze?	Tip!
werkblad 15	
	bouw na met echte blokken. kijk ernaar door een wc-rol.

smileys	Tip!
werkblad 16	
	bouw na met echte blokken. op elke kant staat een smiley.

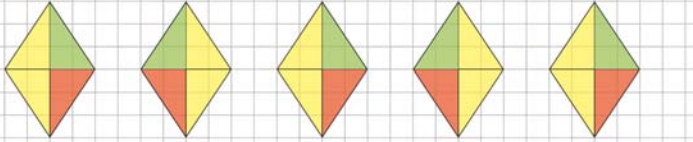
met duim en span	Tip!
werkblad 17 en 18	
	kijk hoe de pijl staat. dat moet je meten!

	
--	--

vierkanten (2)	Tip!
werkblad 22	
bij de opdracht: maak vierkanten.	


kijkdoos (1)	Tip!
werkblad 23	
bij de kijkdoos.	stel je voor: je kijkt écht! wat zie je dan?

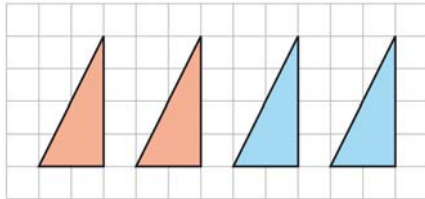
kijkdoos (2)	Tip!
werkblad 24	
	bouw na met echte blokken.

tekenen op het schoolplein	Tip!
werkblad 25 en 26	
bij de opdracht: maak de rij figuren af.	kijk goed! wat doet bart steeds? 

patronen	Tip!
werkblad 27	
bij de vraag: hoeveel tegels in elk pleintje?	6 tegels van € 4. samen: $4 + 4 \rightarrow 8 + 4 \rightarrow 12 + 4 \rightarrow 16 + 4 \rightarrow 20 + 4 \rightarrow 24$

getalspel	Tip!
------------------	-------------

werkblad 28	
bij de eerste opdracht.	$6 + 4 \rightarrow 10$ $10 - 2 \rightarrow 8$ $8 - 5 \rightarrow 3$ 

vierhoeken van driehoeken	Tip!
werkblad 29 en 30	
bij de opdracht: maak vierhoeken.	<p>trek over en knip uit. probeer de vierhoeken te leggen. probeer dat steeds opnieuw.</p> 

weet je het nog?	Tip!
werkblad 31	
	<p>ben je het vergeten? zoek het werkblad dat er bij hoort.</p>